

2022-2023 年度 數學科 階段性評估(2)----實作評量評估報告

學生姓名：洪淑茵 (9)

班別：P.3(C)

課題：毫米

	學習重點	完全掌握 	部分掌握 	仍需努力 
1.	學生能為物件選擇合適的量度工具。	✓		
2.	學生能正確使用量度工具來量度物件的長度。	✓		
3.	學生能正確填寫長度。 (以毫米作量度單位)	✓		
4.	學生能正確匯報結果。	✓		

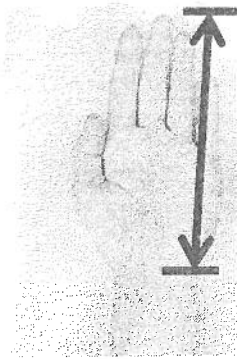
老師評語/跟進：

淑茵能正確地選擇合適的量度工具，也能有效地量度物件，表現良好。

科任簽署：家長簽署：洪文榮日期：20-2-2023

一. 請選出正確的工具量度物件的長度或厚度，並把結果記錄。(以毫米作量度單位)*(四選一)

1. 同學手掌的長度



我用 *(滾輪 / 軟尺 / 直尺)

來量度。(*圈出答案)

它的長度是 _____ ()。

2. 圍繞水樽一周的長度




我用 *(滾輪 / 軟尺 / 直尺)

來量度。(*圈出答案)

它的長度是 _____ ()。

3. 圖書的長度




我用 *(滾輪 / 軟尺 / 直尺)

來量度。(*圈出答案)

它的長度是 144 (mm)。

4. 字典的厚度



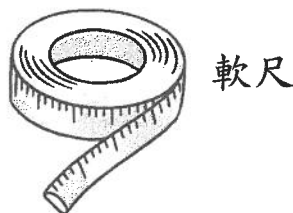
我用 *(滾輪 / 軟尺 / 直尺)

來量度。(*圈出答案)


它的厚度是 _____ ()。



滾輪



軟尺



直尺