




救世軍林拔中紀念學校

2023-2024 年度 數學科 階段性評估(2)----實作評量評估報告

日期：1/10 班別：P.3(B) 姓名：陳樹強 (6)

課題：毫米

	學習重點	完全掌握 	部分掌握 	仍需努力 
1.	學生能選擇合適的量度工具。	✓		
2.	學生能正確使用量度工具來量度物件的長度。		✓	
3.	學生能正確填寫物件的長度。		✓	
4.	學生能正確匯報結果。	✓		

老師評語/跟進：

梓澧直細心閱讀直尺上的刻度(毫米), 另外,

把直尺(0cm)的位置對準智能咭的位置(開始點),
可使量度更準確。

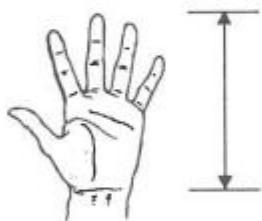
科任簽署：新

家長簽署：陳樹強

日期：18-10-2023

一. 選出最適合的工具進行量度，並把量度所得的結果記錄下來。

1. 自己手掌的長度



我用 *(軟尺 / 直尺 / 滾輪)

來量度。(*圈出答案)

它的長度是 _____ 毫米。

2. 水樽外圍的長度



我用 *(軟尺 / 直尺 / 滾輪)

來量度。(*圈出答案)

它的長度是 _____ 毫米。

3. 智能卡的長度



我用 *(軟尺 / 直尺 / 滾輪)

來量度。(*圈出答案)

它的長度是 82 毫米。

~~85~~

4. 字典的厚度



我用 *(軟尺 / 直尺 / 滾輪)

來量度。(*圈出答案)

它的長度是 _____ 毫米。

只需完成其中一題